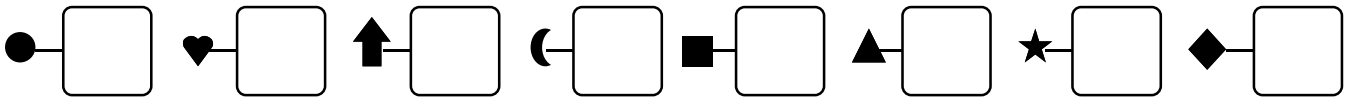
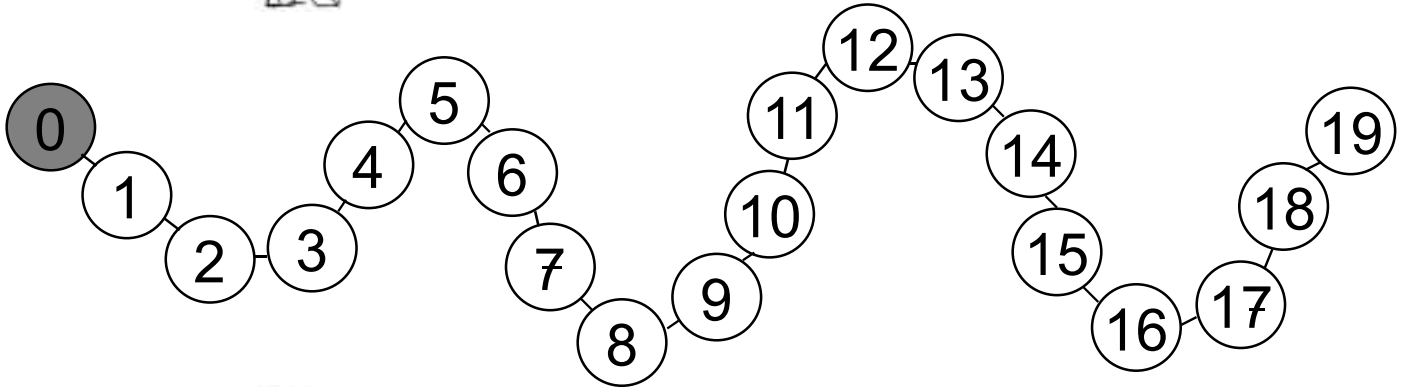


0 - **Écris**  les nombres dictés :

Date

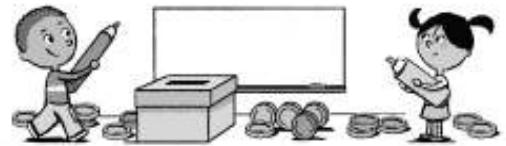



1 - **Dessine**  le signe sous le nombre dicté :



2 - **Entoure**  la bonne réponse :

jeu 1	3	0	3	2	2
jeu 2	1	3	0	2	2
jeu 3	1	1	3	2	3



3 - **Écris**  ce qui manque pour faire 10 :

jeu 4	—	2	1	2	2
jeu 5	1	—	3	1	2

4 - **Écris** : 

1
2
3

4
5
6