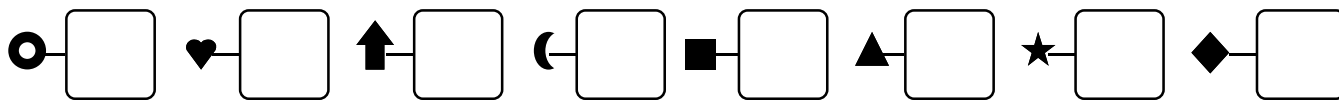
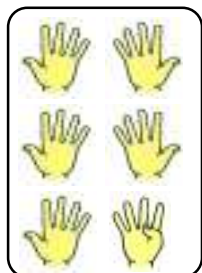


1 - **Écris** les calculs dictés :



2 - **Relie** les étiquettes qui désignent le même nombre :



3 dizaines 7 unités

$20 + 6$

21

49

$20 + 10 + 3$

$10 + 10 + 10 + 10 + 9$

26

33

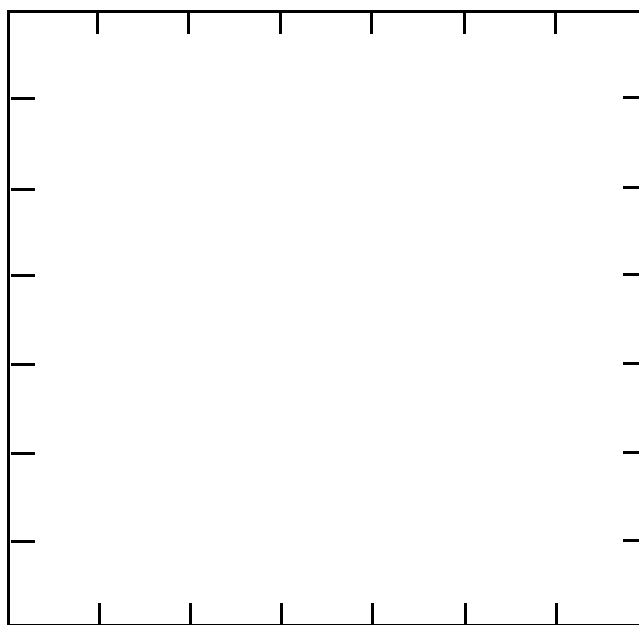
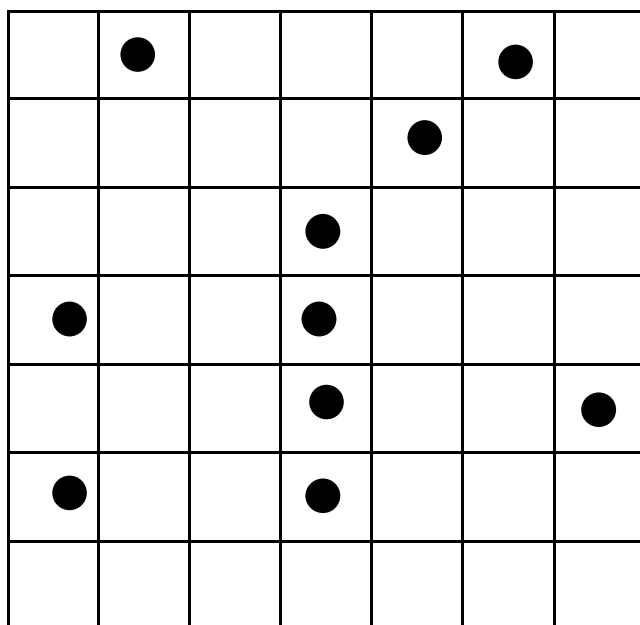
$10 + 10 + 1$

4 dizaines 9 unités

$40 + 9$

$10 + 10 + 9$

3 - **Reproduis** le quadrillage et place les points dans la nouvelle grille :



4 - **Entoure** le plus petit des deux nombres :

82

43

37

73

49

51

29

92

42

30

68

23