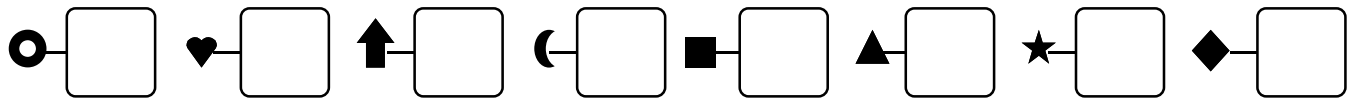
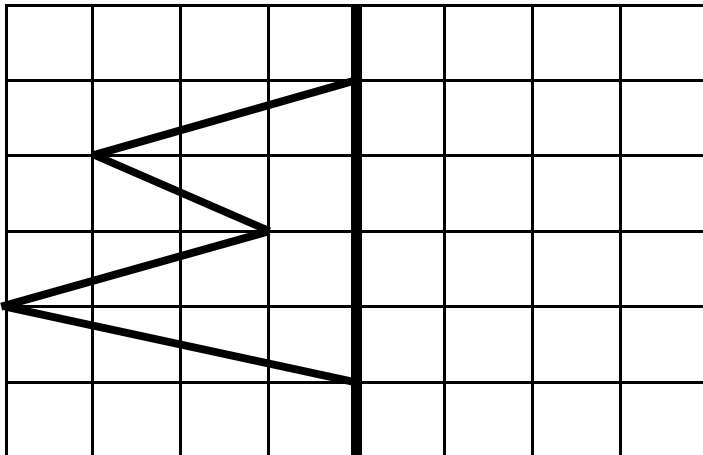


Date

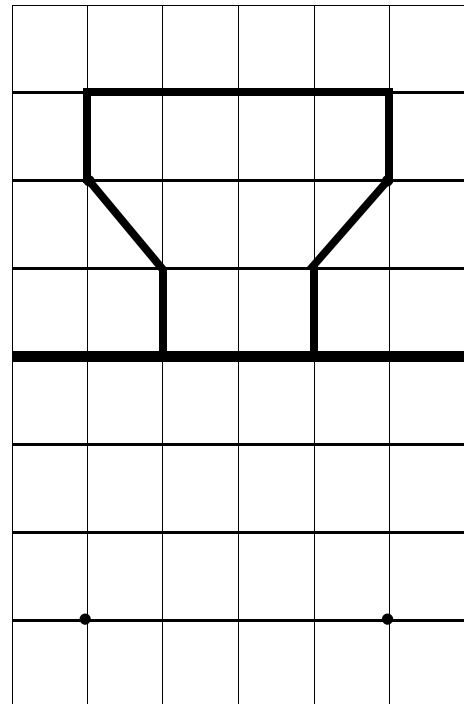
1 - **Écris** les nombres dictés :



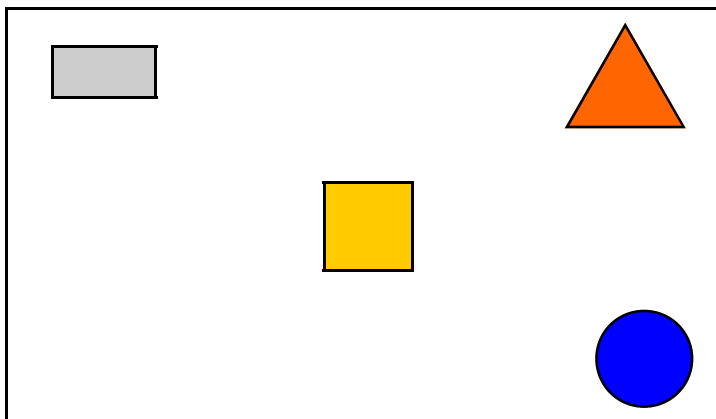
2 - **Trace** en respectant la symétrie :



3 - **Trace** en respectant la symétrie :



4 - **Observe** et **relie** (à droite) :



	• en haut à droite
	• en haut à gauche
	• en bas à droite
	• en bas à gauche
	• au milieu

5 - **Complète** avec le signe $>$ ou $<$:

26 39	39 57	73 29	34 31	63 54
81 18	63 26	43 34	19 91	38 28

6 - **Complète** :

59	60					65											
----	----	--	--	--	--	----	--	--	--	--	--	--	--	--	--	--	--