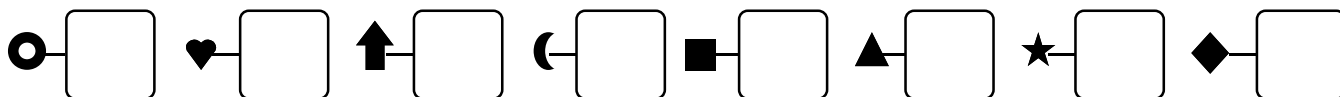
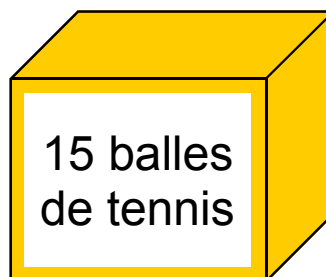


1 - **Écris** les nombres dictés :

2 - Dans la boîte il y avait 15 balles de tennis. Zoé a sorti des balles. Combien en a-t-elle sorti ? Et combien en reste-t-il ?



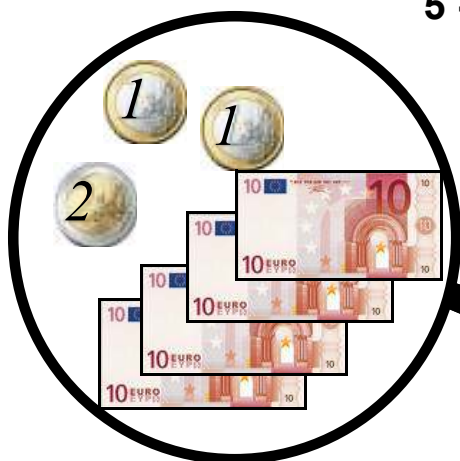
Zoé a sorti... .. balles, il en reste... ..

3 - **Complète** les doubles :

| | |
|-----------------|-------------------|
| $6 + 6 = \dots$ | $10 + 10 = \dots$ |
| $9 + 9 = \dots$ | $1 + 1 = \dots$ |
| $4 + 4 = \dots$ | $8 + 8 = \dots$ |
| $7 + 7 = \dots$ | $2 + 2 = \dots$ |
| $5 + 5 = \dots$ | $3 + 3 = \dots$ |

4 - **Écris** les compléments à 10 :

| | |
|------------------|-------------------|
| $3 + \dots = 10$ | $10 + \dots = 10$ |
| $5 + \dots = 10$ | $9 + \dots = 10$ |
| $7 + \dots = 10$ | $8 + \dots = 10$ |
| $1 + \dots = 10$ | $4 + \dots = 10$ |
| $2 + \dots = 10$ | $6 + \dots = 10$ |

5 - **Complète** :

J'aieuros.

.....dizaines

.....unités