



1 - **Écris** les nombres dictés :

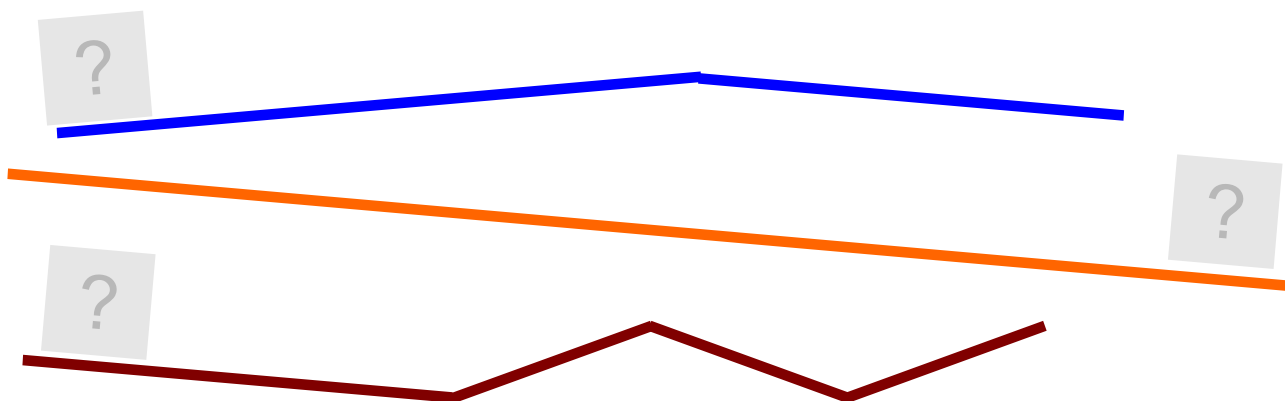
Date .....



2 - Parmi ces nombres, il y en a 5 qui se suivent. **Colorie-les.**



3 - **Écris** la longueur de chaque chemin :



4 - **Colorie** un chemin de 3 unités, sur cette ligne :



5 - Arthur, Zoé et Gribouille avancent leurs compteurs de 1 en 1. **Complète :**

