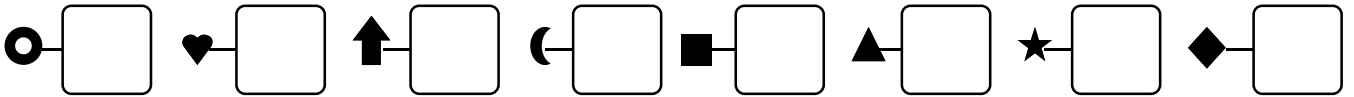



1 - **Écris** les nombres dictés :



2 - **Écris** combien d'unités mesurent cette bande (utilise la petite bande jointe) :

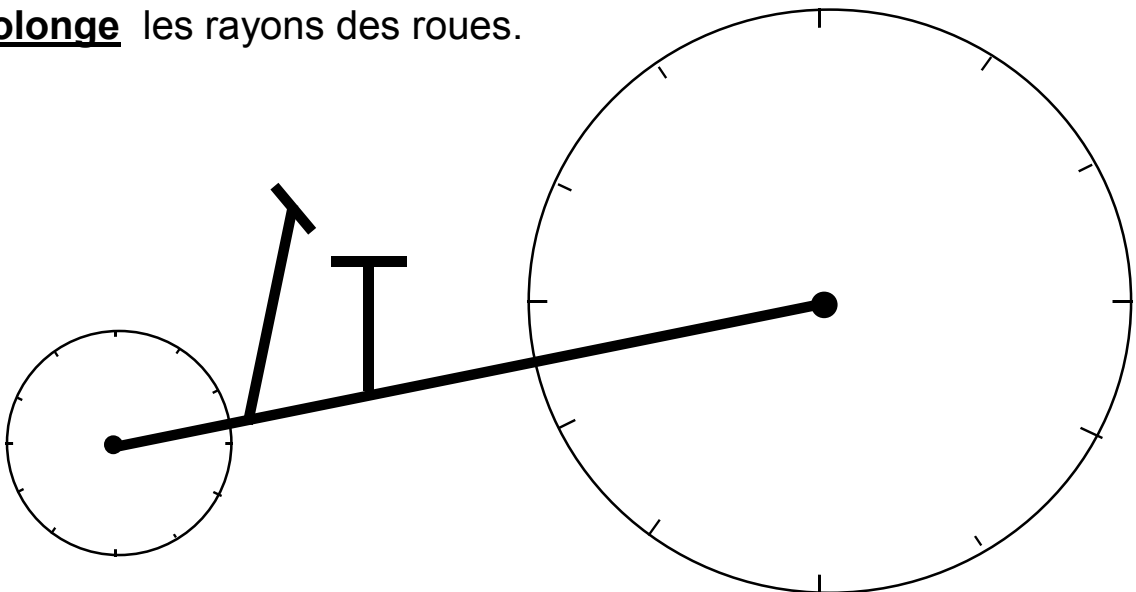


3 - Arthur veut une bande de 3 unités.

**Écris** un trait où il doit couper



4 - **Prolonge** les rayons des roues.



5 - Arthur et Zoé doivent avoir le même nombre de billes.

**Écris** chaque fois deux solutions (toutes les billes sont distribuées) :