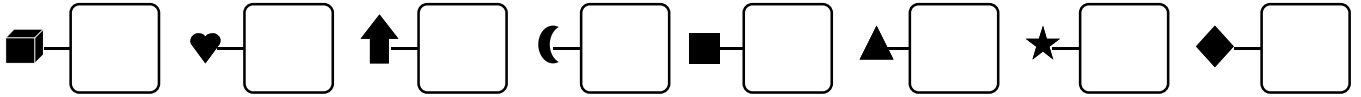



Date

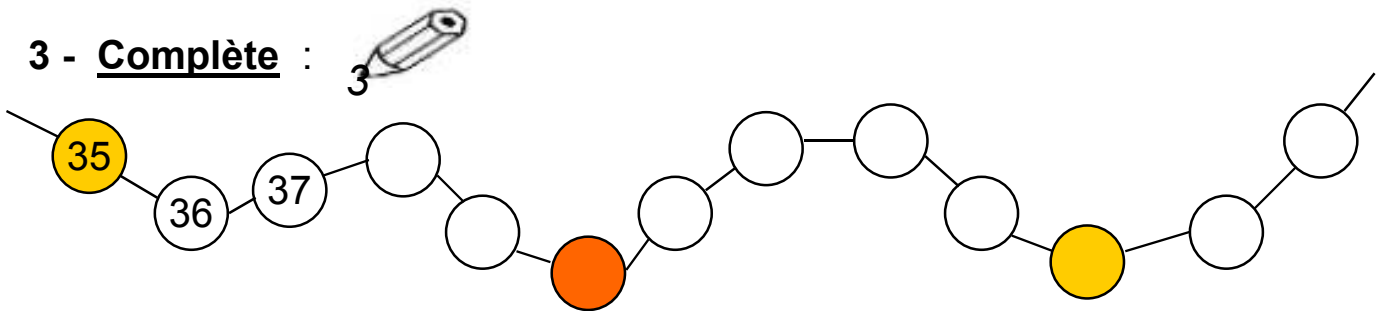
1 - **Écris**  les nombres dictés :



2 - **Colorie**  en orange lorsque le résultat est égal à 5.
Colorie en vert lorsque le résultat est égal à 10.

$5 + 5$	$6 - 1$	$3 + 7$	$12 - 2$	$4 + 1$
$7 - 2$	$10 - 5$	$4 + 3$	$8 + 4$	$13 - 3$
$9 - 3$	$8 - 5$	$4 + 6$	$8 - 3$	$3 + 2$
$7 - 2$	$9 - 4$	$1 + 4$	$2 + 8$	$6 + 5$

3 - **Complète** :



4 - **Écris**  les nombres dans l'ordre croissant :

35

42

34

45

36

44

39

34 - - 45

5 - **Trace**  en prolongeant les traits :

