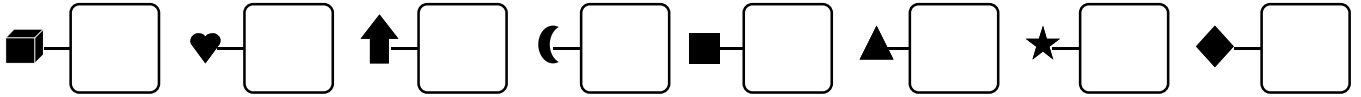



1 - **Écris**  les nombres dictés :

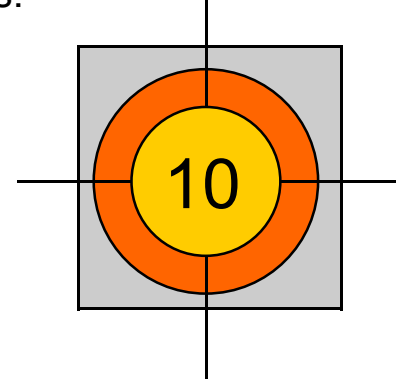


2 - **Écris**  deux sommes en utilisant ces nombres.
Le résultat doit être égal à 10.

2 1 6 3 4

..... = 10


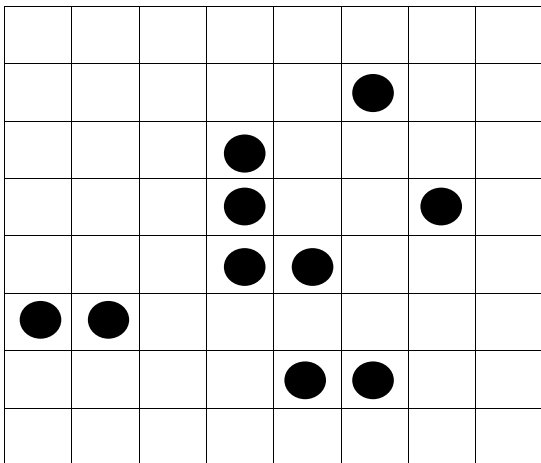
..... = 10




3 - **Entoure**  les égalités qui sont justes. **Barre**  les fausses.

$$\begin{array}{lll}
 4 + 4 = 8 & \vdots & 3 + 2 + 3 = 8 \\
 2 + 2 + 5 = 9 & \vdots & 5 + 1 + 4 = 9 \\
 & \vdots & 2 + 3 + 4 = 8 \\
 & \vdots & 2 + 2 + 2 + 3 = 9
 \end{array}$$

4 - **Reproduis**  cette figure :



5 - **Trace**  à
la règle en suivant les
pointillés.

