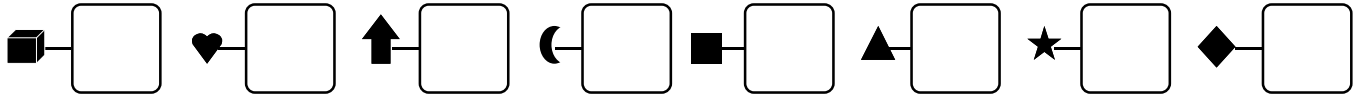




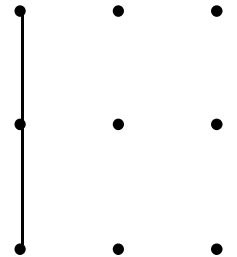
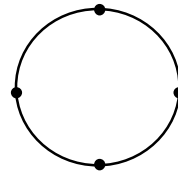

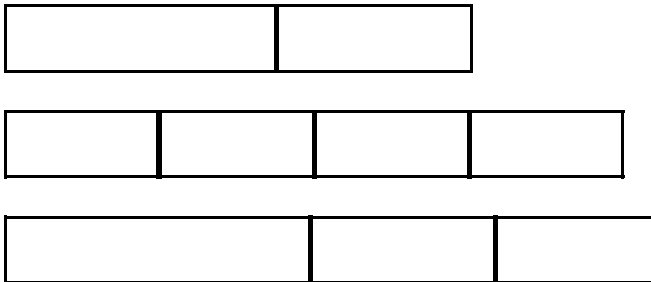
1 - **Écris**  les nombres dictés :



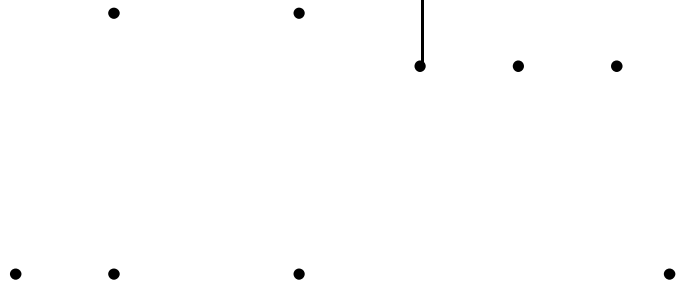

2 - **Colorie**  en rouge lorsque le résultat est égal à 5.
Colorie en bleu lorsque le résultat est égal à 6.


$1 + 4$	$7 - 2$	$8 - 2$	$9 - 3$	$0 + 5$
$5 + 1$	$6 - 2$	$9 - 4$	$10 - 3$	$8 - 4$
$2 + 4$	$6 - 1$	$10 - 5$	$8 - 3$	$6 - 0$
$2 + 3$	$7 - 1$	$9 - 2$	$10 - 4$	$5 - 0$

3 - **Entoure**  le chemin le plus long



4 - **Relie** 
 en suivant le modèle.



5 - **Zoé** a joué au jeu des bandes, elle construit le chemin le plus long.
Trace  une croix sur les 2 bandes qu'elles choisies.

