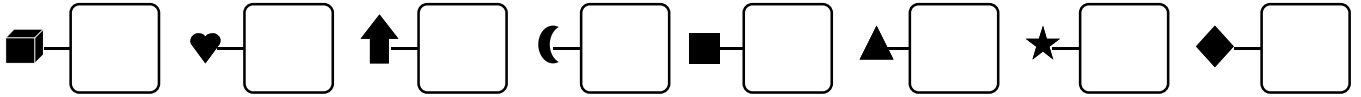




1 - **Écris**  les nombres dictés :



2 - **Complète**  chaque commande pour avoir **9** bonbons.
Elles doivent être toutes différentes.



3 - **Complète** 

$4 + 2 = \dots\dots$

$6 + 2 = \dots\dots$

$1 + 5 = \dots\dots$

$5 + 5 = \dots\dots$

$5 + 4 = \dots\dots$

$1 + 9 = \dots\dots$

$4 - 2 = \dots\dots$

$10 - 1 = \dots\dots$

$6 - 2 = \dots\dots$

$3 - 3 = \dots\dots$

$7 - 6 = \dots\dots$

$8 - 6 = \dots\dots$

4 - **Découpe et colle**

