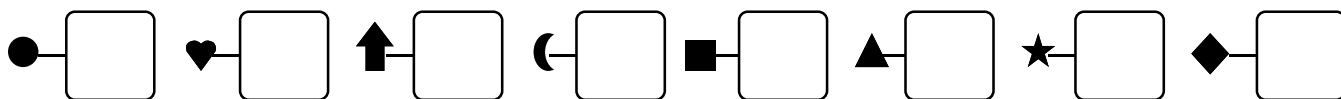


1 - **Écris**  les nombres dictés :



2 - **Entoure**  le plus grand des deux nombres :

7 12

7 5

7 27

15 12

15 25

14 15

3 - **Entoure**  le plus grand nombre des trois nombres.

**Souligne**  le plus petit.

7 8 9

10 5 12

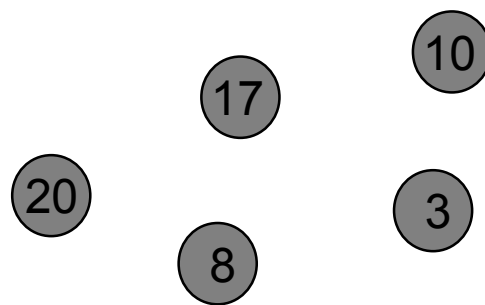

11 31 21

14 17 6

20 25 22

23 32 30

4 - **Écris**  les nombres sur les cartes du plus petit au plus grand :



5 - **Trace**  en prolongeant les traits :

