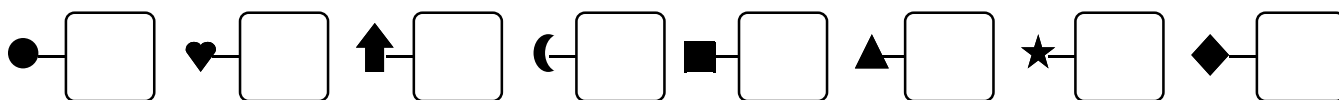
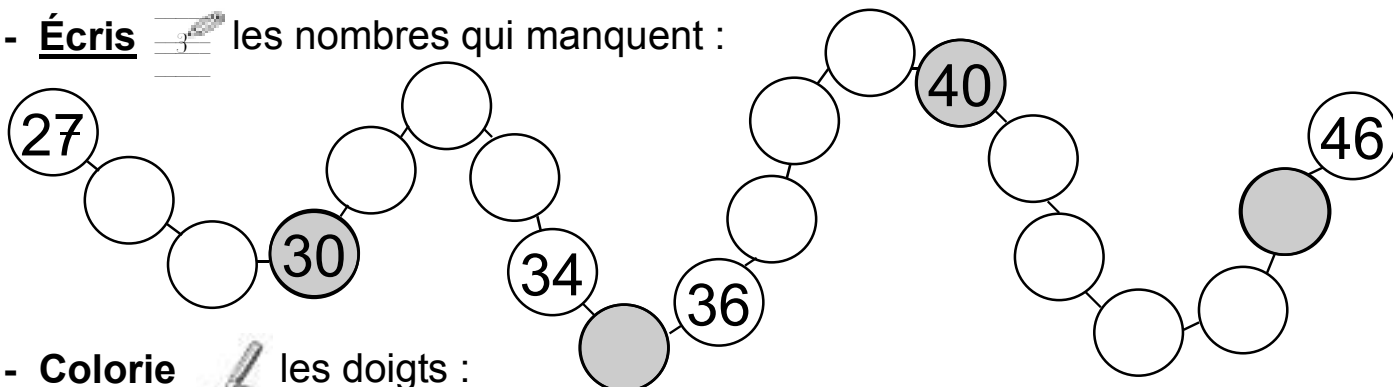


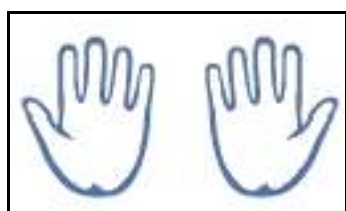
1 - **Écris**  les nombres dictés : Date



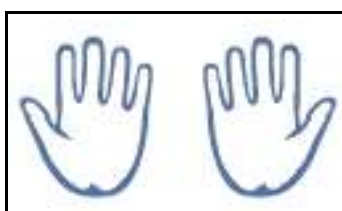
2 - **Écris**  les nombres qui manquent :



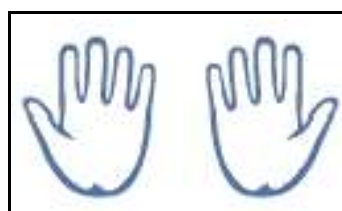
3 - **Colorie**  les doigts :



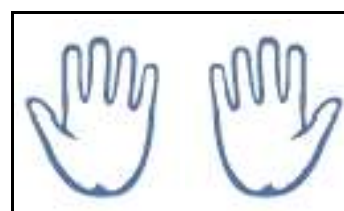
8 doigts



7 doigts







10 doigts



4 doigts

4 - **Complète**  les égalités :


 $1 + 2 = \dots$	 $2 + 0 = \dots$	$1 + 3 = \dots$
 $1 + 2 + 2 = \dots$	 $1 + 0 + 2 = \dots$	$1 + 1 + 1 = \dots$
$1 + 0 + 2 = \dots$	$2 + 0 + 2 = \dots$	$1 + 1 + 2 = \dots$

5 - **Entoure**  l'image derrière laquelle est caché Gribouille :



11



6 - **Écris**  le numéro de l'image :



?

