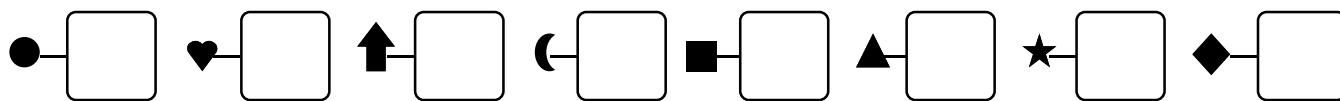
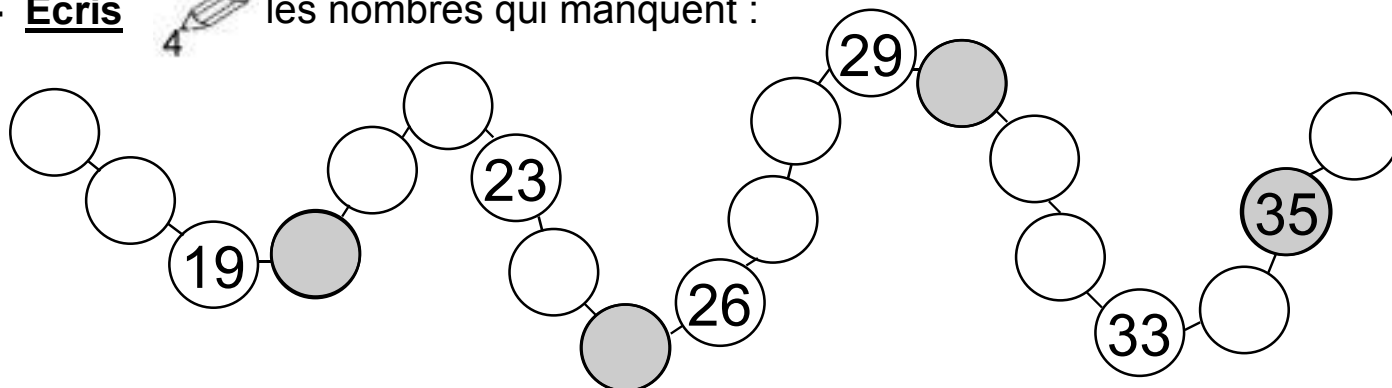


1 - **Écris**  les nombres dictés :

Date .....




2 - **Écris**  les nombres qui manquent :



3 - **Écris**  les nombres qui manquent :

1	2	3
0 + .....	0 + .....	0 + .....
1 + .....	1 + .....	1 + .....
	2 + .....	2 + .....
		3 + .....

4 - **Complète**  les additions :

$3 + 0 = \dots$        $0 + 3 = \dots$        $0 + 1 = \dots$

$1 + 1 = \dots$        $1 + 0 = \dots$        $1 + 2 = \dots$

$2 + 1 = \dots$        $0 + 2 = \dots$        $2 + 2 = \dots$

5 - **Relie**  comme tu le veux :

