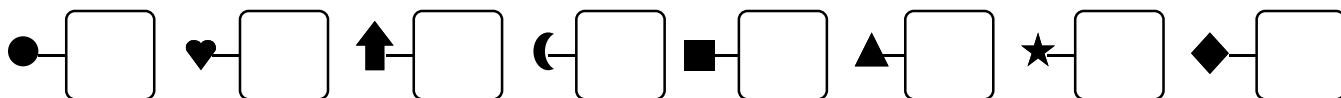


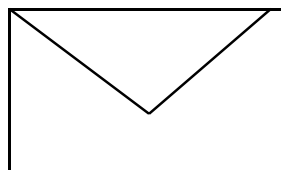
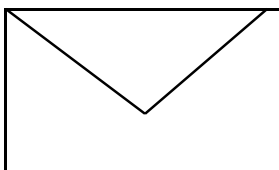
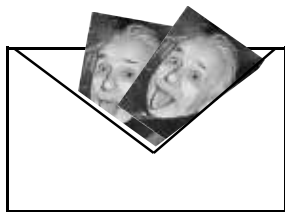
1 - **Écris**  les nombres dictés :

Date



Problème 1


Arthur a mis 2 images dans chaque enveloppe.
Combien d'images va-t-il envoyer ?



Arthur envoie images.

Problème 2



Gribouille a 8 images. Il met 2 images par
enveloppe. Combien lui en faut-il ?



Gribouille a besoin de enveloppes.

Problème 2

Zoé a 14 images. Elle met 2 images par
enveloppe. Combien lui en faut-il ?



Il lui faut enveloppes.